



ȘCOALA GIMNAZIALĂ „DUMITRU HERA” BĂTEȘTI
PROIECTUL EDUCAȚIONAL INTERJUDEȚEAN

„SUB SEMNUL LUI FLORAR”

Clasa I

4 aprilie 2013

Numele:
Prenumele:
Școala:
.....
Învățătoare:.....
Județul :

Se dă ghicitoarea:

Ziua se mărește,
Zăpada se topește,
Grădina a înverzit,
Ce anotimp a sosit?

1. Alegeți răspunsul corect:

A. Zăpadă sau ...

a) nea b) plapumă c) ceață d) nisip

B. Se mărește sau ...

a) se micșorează b) crește c) se depărtează d) se apropie

C. Răspunsul ghicitorii este:

a) vara b) iarna c) primăvara d) toamna

D. În cuvântul „primăvara” sunetul „m” se aude:

a) în prima silabă;
b) în ultima silabă;
c) la începutul cuvântului;
d) în a doua silabă.

2. Cum se numește semnul scris al sunetului?

3. Transcrieți corect propozițiile:

a) Păsările călătoaresc în țară

b) Care este prima lună a primăverii

4. Folosind doar ultima literă din fiecare cuvânt vei obține un cuvânt nou. Cuvintele sunt: „bea”, „cap”, „păr”, „mai”, „cal”, „flori”, „ce”. Ce cuvânt ai găsit?


5. Combină literele **a, l, f, o, r, l**. Ce cuvânt ai obținut?




6. Alcătuiți două propoziții în care cuvântul „mai” să aibă înțelesuri diferite.

7. Continuă cu încă trei propoziții:

În vacanța de primăvară, aș vrea _____

8. Numără și scrie florile de primăvară, pe categorii și apoi află numărul total.



TOTAL

9. Mihnea are 9 pansele, iar Horia are 5. Câte pansele trebuie să-i dea Mihnea lui Horia pentru a avea un număr egal de pansele?

- a) 1 b) 2 c) 3 d) 4

10. Mă gândesc la un număr. Adaug 5 și obțin cel mai mare număr impar de două cifre mai mic decât 20. La ce număr m-am gândit?

11. Într-o livadă sunt 14 meri. În afară de 5 au înflorit toți. Câți meri nu au înflorit?

- a) 5 b) 9 c) 7 d) 10

12. Andrei și-a întrebat tatăl:

- Câți pomi ai văruit în această primăvară?

Tatăl i-a răspuns:

- Dacă rezolvi corect următoarea problemă, afli răspunsul: Găsește numărul a , știind că a este diferența dintre 9 și 7, iar b este cu 7 mai mare decât a .

Câți pomi a văruit tatăl lui Andrei?

13. Dacă azi este joi, **3 martie** înseamnă că anotimpul primăvara a început:

- a) ieri b) alaltăieri c) astăzi d) mâine

14. Ionel are un număr de vioarele cuprins între 20 și 30, cu suma cifrelor 7. Câte vioarele are Ionel?

15.Scrie trei elemente specifice anotimpului primăvara.

16.Enumeră trei activități pe care le desfășoară omul în anotimpul primăvara.

17.Notează lunile anotimpului primăvara.
